









Name _____

Sorting Colors

- Count and write your answers in the chart below



	<input type="text" value="10"/>		<input type="text" value="6"/>		<input type="text" value="5"/>		<input type="text" value="11"/>
	<input type="text" value="7"/>		<input type="text" value="10"/>		<input type="text" value="7"/>		<input type="text" value="6"/>